



Roll No.

--	--	--	--	--	--	--	--

Answer Sheet No.

57

Sig. of Candidate.

Sig. of Invigilator.




GEOGRAPHY SSC-II

SECTION – A (Marks 15)

Time allowed: 20 Minutes

NOTE: Section-A is compulsory. All parts of this section are to be answered on the question paper itself. It should be completed in the first 20 minutes and handed over to the Centre Superintendent. Deleting/overwriting is not allowed. Do not use lead pencil.

Q. 1 Circle the correct option i.e. A / B / C / D. Each part carries one mark.

- (i) Human Geography is the study of _____ on earth.
A. Mountains B. Climate
C. Man's Activities D. Humanity
- (ii) The first age of human evolution is called the _____ age
A. Bronze B. Stone C. Machine D. Atomic
- (iii) About _____ percent of world's population lives on 10 percent of land surface.
A. 70 B. 80 C. 90 D. 100
- (iv) According to an estimate in 2004, the total population of Africa was _____ million.
A. 885 B. 728 C. 549 D. 326
- (v) Which part of the continents are sparsely populated?
A. Edges of continents B. Central parts
C. Northern parts D. Western parts
- (vi) Population growth rate is less in developed countries where economy depends on:
A. Agriculture B. Mining C. Industries D. Transport
- (vii) A settlement with few houses and one or two shops is called:
A. Farmstead B. Hamlet C. Village D. Town
- (viii) Settlements built around a central point are known as _____ settlements.
A. Dispersed B. Linear C. Nucleated D. Urban
- (ix) The city that expands and merges with neighbouring cities is called:
A. City B. Metropolitan city
C. Conurbation D. Megalopolis
- (x) According to 1998 census _____ percent population of Pakistan lives in rural areas.
A. 57 B. 67 C. 77 D. 47
- (xi) According to an estimate, the population of world will be _____ billion by 2025.
A. 6 B. 8 C. 10 D. 12
- (xii) Which rays cause cancer and eye diseases?
A. X-rays B. Gamma rays C. Ultraviolet rays D. Slanting rays
- (xiii) Which of the following scales is called, 'International scale'?
A. Statement of scale B. Representative fraction
C. Linear scale D. Comparative scale
- (xiv) Which of the following is a sign for "Spring"?
A.  B.  C.  D. RH
- (xv) In which of the following maps is large scale used?
A. Cadastral maps B. Weather maps C. Relief maps D. Atlas maps

For Examiner's use only:

Total Marks:

15

Marks Obtained:

Roll No.

--	--	--	--	--	--

Answer Sheet No. _____



Sig. of Candidate _____

Sig. of Invigilator. _____

جغرافیہ ایس ایس سی-II**حصہ اول (کل نمبر: 15)**

وقت: 20 منٹ

نوٹ: حصہ اول لازمی ہے۔ اس کے جوابات پرچے پر ہی دیے جائیں گے۔ اس کو پہلے میں منٹ میں مکمل کر کے ناظم مرکز کے حوالے کر دیا جائے۔ کاٹ کر دوبارہ لکھنے کی اجازت نہیں۔ ایڈ جنرل کا استعمال ممنوع ہے۔

- سوال نمبر: دیے گئے الفاظ یعنی الف براج رو میں سے درست جواب کے گرد دائرہ لگائیں۔ ہر جزو کا ایک نمبر ہے۔
- (i) انسانی جغرافیہ کرہ ارض پر _____ کا مطالعہ کرتی ہے۔
الف۔ پہاڑ ب۔ آب و ہوا ج۔ انسانی سرگرمیاں د۔ انسانیت
- (ii) انسانی ارتقاء کا پہلا دور _____ کہلاتا ہے۔
الف۔ دھات کا زمانہ ب۔ پتھر کا زمانہ ج۔ مشین کا زمانہ د۔ اٹمی دور
- (iii) دنیا کے تقریباً _____ فیصد آبادی 10 فیصد رقبے پر رہتی ہے۔
الف۔ 70 ب۔ 80 ج۔ 90 د۔ 100
- (iv) 2004ء کے اعداد و شمار کے مطابق افریقہ کی کل آبادی _____ ملین تھی۔
الف۔ 885 ب۔ 728 ج۔ 549 د۔ 326
- (v) براعظموں کے کون سے حصے کم آباد ہیں؟
الف۔ براعظمی کنارے ب۔ وسطی حصے ج۔ شمالی حصے د۔ مغربی حصے
- (vi) آبادی کی شرح افزائش ترقی یافتہ ممالک جن کا انحصار _____ پر ہے میں کم ہے۔
الف۔ زراعت ب۔ کان کنی ج۔ صنعت د۔ زراعت آمدورفت
- (vii) ایسی بستی جس میں چند گھنٹہ اور ایک دو دوکانیں ہوں _____ کہلاتی ہے۔
الف۔ فارمنیڈ ب۔ ٹیبلٹ ج۔ گاؤں د۔ قصبہ
- (viii) وہ بستیاں جو کسی خاص مقام کے گرد بنتی ہیں _____ کہلاتی ہیں۔
الف۔ منتشر بستیاں ب۔ خطی بستیاں ج۔ مشترک مرکز والی بستیاں د۔ شہری بستیاں
- (ix) ایسا شہر جو پھیل کر اردگرد کے شہر اپنے اندر شامل کر لیتا ہے اسے _____ کہتے ہیں۔
الف۔ شہر ب۔ میٹروپولیٹن ج۔ عروس البلاد د۔ میگالاپولس
- (x) 1998ء مردم شماری کے مطابق پاکستان کی _____ فیصد آبادی دیہی علاقوں میں رہتی ہے۔
الف۔ 57 ب۔ 67 ج۔ 77 د۔ 47
- (xi) ایک اندازے کے مطابق 2025ء تک دنیا کی آبادی _____ ہو جائے گی۔
الف۔ 6 ارب ب۔ 8 ارب ج۔ 10 ارب د۔ 12 ارب
- (xii) کون سی شہر میں کینسر اور آنکھوں کی بیماری پھیل کر رہی ہے؟
الف۔ ایٹس رے ب۔ گیما رے ج۔ بالائونشی رے د۔ ترجمی رے
- (xiii) درج ذیل میں سے کون سا بیانہ بین الاقوامی بیانہ کہلاتا ہے؟
الف۔ بیانیہ بیانہ ب۔ کسر اعتباری ج۔ خطی بیانہ د۔ تقابلی بیانہ
- (xiv) درج ذیل میں سے کون سی علامات "چشمہ" کے لیے استعمال ہوتی ہے؟
الف۔ \uparrow ب۔ \circ ج۔ $+$ د۔ RH
- (xv) درج ذیل میں سے کون سے نقشے میں بڑا پیمانہ استعمال ہوتا ہے؟
الف۔ رقباتی نقشے ب۔ موسمیاتی نقشے ج۔ زمینی / طبعی نقشے د۔ اہلس نقشے

--

حاصل کردہ نمبر:

15

کل نمبر:

برائے ممتحن:



GEOGRAPHY SSC-II

Time allowed: 2:40 Hours

Total Marks Sections B and C: 60

NOTE: Answer any twelve parts from Section 'B' and any three questions from Section 'C' on the separately provided answer book. Use supplementary answer sheet i.e. Sheet-B if required. Write your answers neatly and legibly.

SECTION – B (Marks 36)

Q. 2 Attempt any TWELVE parts. The answer to each part should not exceed 3 to 4 lines. (12 x 3 = 36)

- (i) Define Evolution of human geography.
- (ii) Name six branches of human geography.
- (iii) Write the names of sparsely populated areas in at least three continents.
- (iv) What is meant by Population Growth?
- (v) Define human settlements.
- (vi) Define Primary Economic Activities.
- (vii) Define and draw dispersed settlements.
- (viii) What is the ratio of rural population in developed and developing countries of the world?
- (ix) Draw and define Urban Morphology.
- (x) Write about the biotic components of environment.
- (xi) Write three steps to control pollution.
- (xii) Write a few lines about the importance of maps.
- (xiii) Write three types of North.
- (xiv) What is "Great Bear"?
- (xv) Define scale. Also write its types.
- (xvi) Change into R.F a. 1cm=4km b. 1cm=8km
- (xvii) Draw conventional signs for the following:
a. Level crossing b. Marsh c. Orchards
- (xviii) What are cardinal points?

SECTION – C (Marks 24)

Note: Attempt any THREE questions. All questions carry equal marks. (3 x 8 = 24)

- Q. 3** Write a detailed note on urban settlements.
- Q. 4** Write a note on the distribution and density of world population.
- Q. 5** Write about the scope and range of human geography.
- Q. 6** Write notes on any two:
 - (i) Factors affecting population distribution
 - (ii) Directions
 - (iii) Functions of Urban settlements



جغرافیہ ایس ایس سی-II

وقت: 2:40 گھنٹے

کل نمبر حصہ دوم اور سوم: 60

نوٹ: حصہ دوم اور سوم کے سوالات کے جوابات علیحدہ سے مہیا کی گئی جوابی کاپی پر دیں۔ حصہ دوم کے بارہ (12) اجزاء اور حصہ سوم میں سے کوئی سے تین (3) سوال حل کیجیے۔ ایکسٹرا شیٹ (Sheet-B) طلب کرنے پر مہیا کی جائے گی۔ آپ کے جوابات صاف اور واضح ہونے چاہئیں۔

حصہ دوم (کل نمبر 36)

سوال نمبر ۲: مندرجہ ذیل اجزاء میں سے بارہ (12) کے تین سے چار سطروں تک محدود جوابات لکھیں:

(12x3=36)

- (i) انسانی جغرافیہ کی ابتدا کی تعریف کریں۔
(ii) انسانی جغرافیہ کی پیش روں کے نام تحریر کریں۔
(iii) تین براعظموں میں پائے جانے والے کم آبادی والے علاقوں کے نام لکھیے۔
(iv) افزائش آبادی سے کیا مراد ہے؟
(v) انسانی بستیوں کی تعریف کیجیے۔
(vi) ابتدائی معاشی سرگرمیوں کی تعریف کریں۔
(vii) منتشر بستیوں کی شکل بنائیں اور تعریف کریں۔
(viii) دنیا میں ترقی یافتہ اور ترقی پذیر ممالک میں دیہی آبادی کا تناسب کیا ہے؟
(ix) شہروں کی بناؤ کی شکل بنائیں اور تعریف کریں۔
(x) ماحول کے حیاتیاتی اجزاء کے بارے میں لکھیے۔
(xi) آلودگی کو کم کرنے کے لیے تین تدابیر لکھیے۔
(xii) نشیمنی اہمیت کے بارے میں چند طور لکھیے۔
(xiii) شمال کی تین اقل ممالک لکھیے۔
(xiv) ”دب اکبر“ کیا ہے؟
(xv) پینڈنگ تعریف اور اس کی اقل ممالک لکھیے۔
(xvi) کسر اعتباری میں تبدیل کریں۔ الف - 1cm=4km ب - 1cm=8km
(xvii) درج ذیل کی مزید حالات بتائیے: الف - لیول کراسنگ ب - دلدل ج - بانٹ
(xviii) بنیادی نقاط کیا ہوتے ہیں؟

حصہ سوم (کل نمبر 24)

(3x8=24)

(کوئی سے تین سوال حل کیجیے۔ تمام سوالوں کے نمبر برابر ہیں۔)

- سوال نمبر ۳: شہری بستیوں کے بارے میں تفصیلی نوٹ لکھیے۔
سوال نمبر ۴: عالمی تقسیم آبادی اور گنجانیت پر نوٹ لکھیے۔
سوال نمبر ۵: انسانی جغرافیہ کے دائرہ اور وسعت کے بارے میں لکھیے۔
سوال نمبر ۶: مندرجہ ذیل میں سے دو پر مختصر نوٹ لکھیے۔
(i) آبادی کے تقسیم پ اثر انداز ہونے والے عناصر
(ii) سمیتیں
(iii) شہری بستیوں کی سرگرمیاں